

**Проверочная работа
по ГЕОГРАФИИ**

6 КЛАСС

Образец

Инструкция по выполнению работы

На выполнение работы по географии даётся 45 минут. Работа включает в себя 9 заданий.


Ответы на задания запишите в поля ответов в тексте работы. В случае записи неверного ответа зачеркните его и запишите рядом новый.

Для выполнения задания 3 Вам потребуется линейка, а для выполнения задания 6 – карандаш.

При выполнении работы не разрешается пользоваться учебником, рабочими тетрадями, атласом и другим справочным материалом.

При необходимости можно пользоваться черновиком. Записи в черновике проверяться и оцениваться не будут.

Советуем выполнять задания в том порядке, в котором они даны. В целях экономии времени пропускайте задание, которое не удаётся выполнить сразу, и переходите к следующему. Если после выполнения всей работы у Вас останется время, то Вы сможете вернуться к пропущенным заданиям.

Значком  отмечены задания, ответы на которые фиксируются на карте, приведённой на странице 2.

Желаем успеха!



В образце представлено два примера задания 7.

В реальных вариантах проверочной работы на эту позицию предлагается только одно задание.

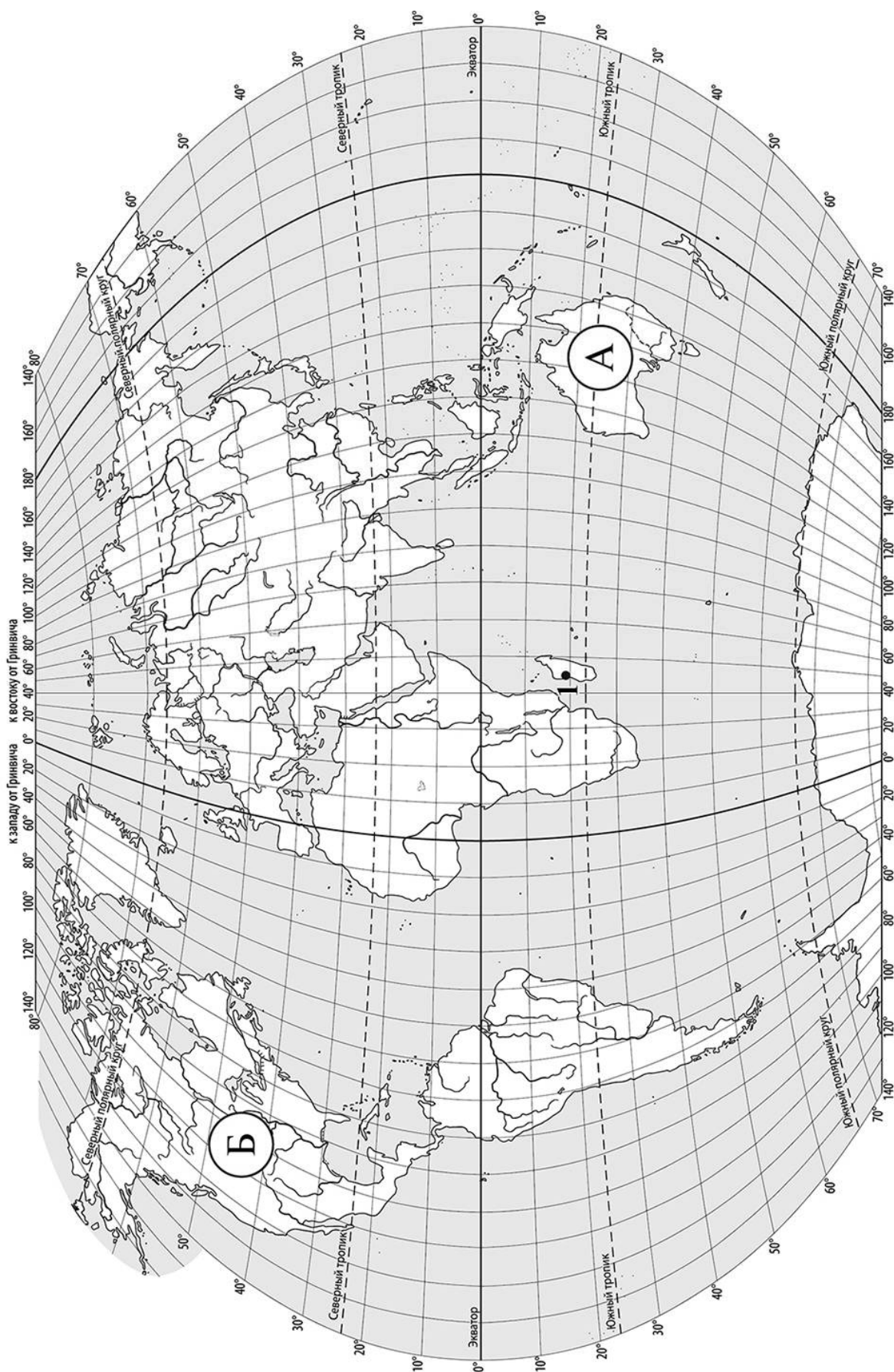
Заполняется учителем, экспертом или техническим специалистом

Обратите внимание: в случае, если какие-либо задания не могли быть выполнены целым классом по причинам, связанным с отсутствием соответствующей темы в реализуемой школой образовательной программе, в форме сбора результатов ВПР всем обучающимся класса за данное задание вместо балла выставляется значение «Тема не пройдена». В соответствующие ячейки таблицы заполняется н/п.

Таблица для внесения баллов участника

Номер задания	1.1	1.2	2.1	2.2	3.1	3.2	3.3	4.1	4.2	4.3	5.1	5.2	6.1	6.2	6.3	7
Баллы																

Номер задания	8	9.1	9.2	9.3	Сумма баллов	Отметка за работу
Баллы						



Задание 1 выполняется с использованием карты мира, приведённой на странице 2.

1 Рассмотрите карту мира и выполните задания.

1.1. Запишите названия материков, обозначенных на карте буквами А и Б.

Название материка **А** :


Название материка **Б** :



1.2. С каким из названных Вами материков связаны открытия путешественников и исследователей, изображённых на портретах? Укажите в ответе букву, которой обозначен этот материк на карте.



Абель Тасман



Н.Н. Миклухо-Маклай

Ответ.



Подпишите на карте океаны, омывающие берега указанного Вами материка.



Задание 2 выполняется с использованием карты мира, приведённой на странице 2.

2

Рассмотрите карту мира и выполните задания.



2.1. Найдите на карте точку 1 с координатами 19° ю. ш. 45° в. д.

Поставьте на карте точку 2 с координатами 43° с. ш. 45° в. д.

В каком направлении от точки 1 расположена точка 2?

- 1) северном
- 2) южном
- 3) западном
- 4) восточном


Ответ.

2.2. Точка 1 расположена на территории крупного географического объекта. Прочитайте текст, рассмотрите космический снимок и определите, какой географический объект описан в тексте.

Это четвёртый по величине остров мира. Он расположен к востоку от Африки и отделён от неё широким проливом. В центральной части острова расположено высокогорное плато, круто обрывающееся в сторону Индийского океана. Остров уникален по составу растительного и животного мира. Здесь обитают животные, которых нет больше нигде на планете, например лемуры и некоторые виды хамелеонов.

Запишите название этого географического объекта.

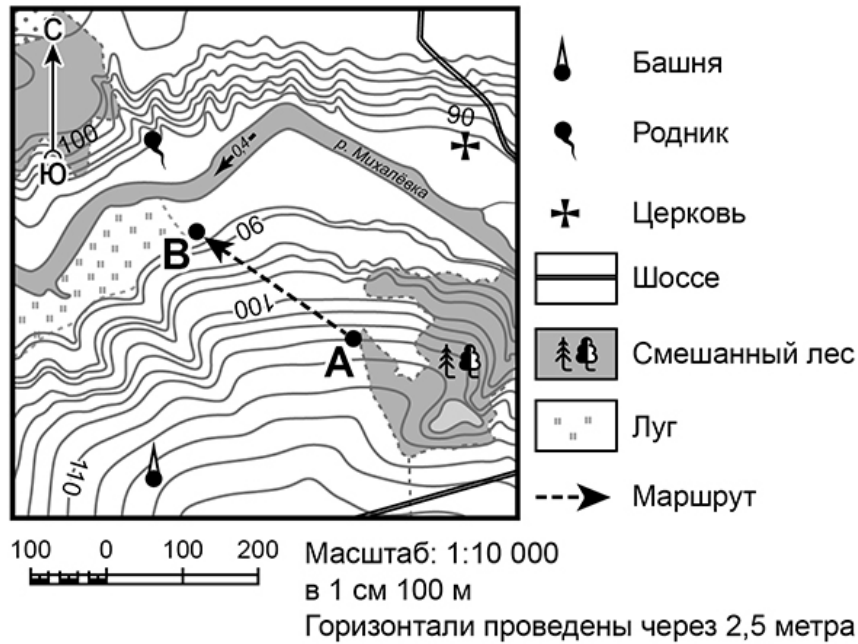
Ответ. _____



Задание 3 выполняется с использованием приведённого ниже фрагмента топографической карты.

3

Рассмотрите фрагмент топографической карты и выполните задания.



3.1. На каком берегу реки Михалёвки находится церковь? Подчеркните верный ответ.

Ответ. На правом / на левом

В каком направлении от церкви расположен родник?

Ответ. _____

3.2. Определите протяжённость маршрута А–В на местности с помощью масштаба карты. Для выполнения задания используйте линейку. Расстояние на карте измеряйте по центрам точек.

Ответ. _____

3.3. Какой из изображённых на фотографиях объектов может быть сооружён на участке, по которому проходит маршрут А–В? Укажите в ответе букву, которой обозначен этот объект.



А – футбольное поле



Б – санный спуск



В – пляж

Ответ.

Какая особенность участка, по которому проходит маршрут А–В, определила Ваш выбор?

- 1) близость к реке
- 2) ровная поверхность
- 3) достаточный уклон
- 4) отдалённость от населённого пункта


Ответ.



4


4.1. Разница во времени между городами Санкт-Петербургом и Якутском составляет **+6 часов**, так как Якутск расположен восточнее Санкт-Петербурга, и день там наступает раньше. На рисунках представлены показания часов в Санкт-Петербурге и Якутске в тот момент, когда в Санкт-Петербурге **5 часов вечера**. Запишите под каждым рисунком, как отображается то же самое время на электронных часах в этих городах.

САНКТ-ПЕТЕРБУРГ



:

ЯКУТСК



:

4.2. Настя живёт в городе Санкт-Петербурге. Что она делает в указанное Вами время? Используйте для ответа приведённый режим дня школьника.

Ответ. _____

Что в это же время делает её сверстница Катя, которая живёт в Якутске, если она соблюдает тот же режим дня, что и Настя?

Ответ. _____

4.3. Чем обусловлена разница во времени в разных частях Земли?

- 1) климатическими условиями
- 2) движением Земли вокруг Солнца
- 3) осевым вращением Земли
- 4) сменой времён года

Ответ.

РЕЖИМ ДНЯ ШКОЛЬНИКА

7.00	<i>Подъём</i>
7.05 – 7.20	<i>Утренняя зарядка</i>
7.20 – 7.30	<i>Гигиенические процедуры</i>
7.30 – 8.00	<i>Завтрак</i>
8.00 – 8.15	<i>Дорога в школу</i>
8.30 – 13.10	<i>Занятия в школе</i>
13.10 – 13.30	<i>Дорога домой</i>
13.45 – 14.15	<i>Обед</i>
14.15 – 16.15	<i>Занятия в кружках/секциях</i>
16.30 – 16.45	<i>Полдник</i>
16.45 – 18.15	<i>Выполнение домашних заданий</i>
18.15 – 19.15	<i>Прогулка на свежем воздухе</i>
19.30 – 20.00	<i>Ужин</i>
20.00 – 21.30	<i>Свободное время (чтение книг, просмотр телепередач, настольные игры)</i>
21.30 – 22.00	<i>Гигиенические процедуры и подготовка ко сну</i>
22.00 – 7.00	<i>Ночной сон</i>

5

5.1. Установите соответствие между природными зонами и их географическими особенностями.

Природные зоны

А – саванны и редколесья

Б – тайга

Географические особенности

- 1) устойчивый снежный покров зимой
- 2) преимущественно травянистая растительность
- 3) занимает обширные равнины Африки
- 4) произрастание хвойных деревьев
- 5) занимает территорию в пределах умеренного пояса Северного полушария
- 6) местообитание зебр, жирафов, антилоп

Запишите в таблицу выбранные цифры под буквами, которыми обозначены природные зоны.

Ответ.

Природная зона	А	Б
Географические особенности		

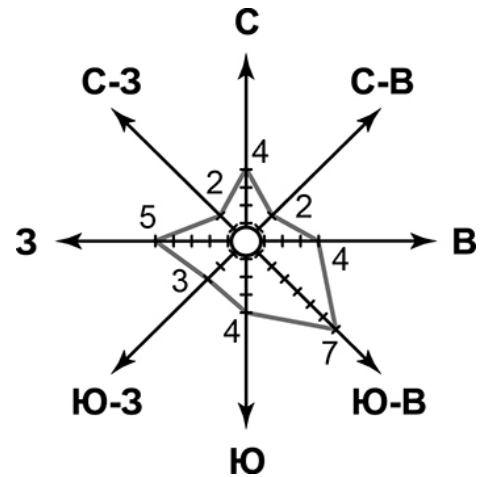
5.2. В какой из указанных природных зон могли быть сделаны представленные фотографии? Запишите **название** природной зоны.



Ответ. _____

6

6.1. На метеорологической станции города N в январе были проведены наблюдения за направлением ветра. По результатам наблюдений метеорологи построили розу ветров. Рассмотрите розу ветров и ответьте на вопросы.



Какой ветер чаще всего дул в январе?

Ответ. _____

В каком направлении дует этот ветер?

Ответ. _____

6.2. Выберите рисунок, на котором знаками отображена погода в тот день, когда температура воздуха опустилась ниже 10 градусов мороза. Запишите в ответе букву, которой обозначен этот рисунок.

- А -16 °C 74%
- Б -10 °C 56%
- В +2 °C 80%

Ответ.

6.3. Андрей в течение дня наблюдал за погодой и описал её в дневнике наблюдений. Прочитайте это описание и отобразите его с помощью условных обозначений так, как на представленных выше рисунках.

Сегодня целый день было ясно, а к вечеру выпала обильная роса. Дул слабый юго-западный ветер. Температура воздуха днём была около 22 градусов тепла, а влажность – 50 процентов.

УСЛОВНЫЕ ОБОЗНАЧЕНИЯ		
Облачность	Осадки	Направление ветра

Ответ.

7 Прочитайте текст и выполните задание.

(1)Литосфера — твёрдая оболочка Земли, состоящая из земной коры и верхней части подстилающей её мантии. (2)Глубинные разломы разделяют литосферу на блоки – литосферные плиты, которые могут перемещаться по пластичному слою мантии под действием внутренних сил Земли. (3)Перемещение литосферных плит приводит к изменению положения материков и океанов на поверхности Земли. (4)Литосферные плиты сходятся, расходятся или двигаются параллельно друг другу, смещаясь в среднем на 2-3 см в год. (5)В местах столкновения литосферных плит на суше образуются складчатые горы, а в океане, вдоль границы с сушей — глубоководные желоба. (6)Расхождение литосферных плит приводит к формированию на дне океанов срединно-океанических хребтов.

По каким предложениям можно сделать вывод о результатах движения литосферных плит? Запишите номера предложений.

Ответ. _____

ИЛИ

7 Прочитайте предложения и выполните задание.

- 1) Используя богатства природы, человек активно внедряется во все оболочки Земли.
- 2) При создании водохранилищ и распашке земель изменяются водный баланс и почвенный покров, что нарушает видовой состав флоры и фауны на огромных территориях.
- 3) В Мировом океане среду обитания живых организмов особенно сильно нарушает загрязнение воды.
- 4) Современные технологии позволяют человеку осваивать новые территории, добывать богатства земных недр, прогнозировать природные процессы и даже управлять ими.
- 5) Ежегодно в атмосферу Земли выбрасывается огромное количество вредных веществ.
- 6) Вырубка лесов, охота, сбор редких видов растений приводят к сокращению и даже уничтожению растительного и животного мира нашей планеты.

По каким предложениям можно сделать вывод о негативном влиянии человека на биосферу? Запишите номера предложений.

Ответ. _____

8

Рассмотрите фотографию с изображением опасного явления природы. Запишите его название.

Ответ. _____

В какой части географической оболочки Земли зарождается это явление?

- 1) литосфере
- 2) гидросфере
- 3) биосфере
- 4) атмосфере



Ответ.

9

Используя приведённую ниже таблицу, выполните задания.

Численность и состав населения

№	Страна	Численность населения, млн человек	Состав населения, %	
			городское	сельское
1	Австралия	25	88	12
2	Греция	11	80	20
3	Египет	95	43	57
4	Франция	65	80	20

9.1. Расположите страны в порядке **уменьшения** численности населения, начиная со страны с самой большой численностью. Запишите в ответе последовательность **порядковых номеров** этих стран.

Ответ.

--	--	--	--

9.2. В какой стране более половины населения проживает в сельской местности? Запишите в ответе **название** страны.

Ответ. _____

В каких двух странах доля городского населения одинакова? Запишите в ответе **названия** стран.

Ответ. _____

9.3. В какой стране, из указанных в таблице, сделана представленная фотография? Запишите в ответе название страны.

Ответ. _____

Какой уникальный объект, созданный живыми организмами, расположен вблизи восточного побережья указанной Вами страны?

- 1) Марианская впадина
- 2) остров Пасхи
- 3) Большой Барьерный риф
- 4) Драконовы горы



Ответ.

--

Система оценивания проверочной работы

Полный правильный ответ на каждое из заданий 1.1, 2.2, 3.2, 4.1, 4.3, 5.2 и 6.2 оценивается 1 баллом. Если в ответе допущена хотя бы одна ошибка (один из элементов ответа записан неправильно или не записан), выставляется 0 баллов.

Полный правильный ответ на каждое из заданий 5.1, 7 и 9.1 оценивается 2 баллами. Если в ответах допущена одна ошибка (в том числе не указана одна необходимая цифра или указана лишняя цифра) или в ответах на задания 5.1 и 9.1 перепутаны местами две цифры, выставляется 1 балл; если допущено две или более ошибки – 0 баллов.


Номер задания	Правильный ответ	
1.1	А – Австралия, Б – Северная Америка	
2.2	остров Мадагаскар	
3.2	250 метров (допускается погрешность ± 10 метров)	
4.1	17.00; 23.00	
4.3	3	
5.1	А – 236 (в любой последовательности); Б – 145 (в любой последовательности)	
5.2	тайга	
6.2	А	
7	356 (в любой последовательности)	236 (в любой последовательности)
9.1	3412	

1

1.2. С каким из названных Вами материков связаны открытия путешественников и исследователей, изображённых на портретах? Укажите в ответе букву, которой обозначен этот материк на карте.



А. Тасман



Н.Н. Миклухо-Маклай

Подпишите на карте океаны, омывающие берега указанного Вами материка.

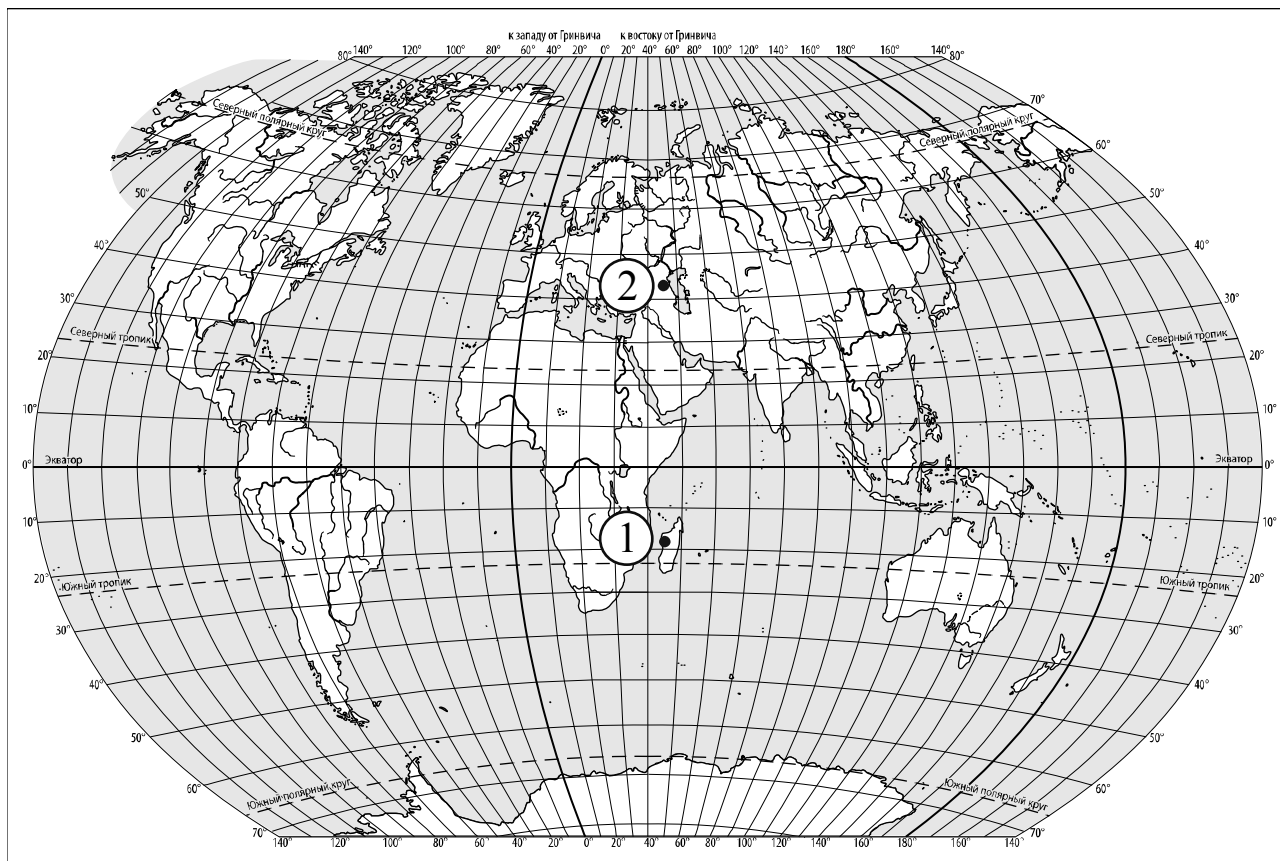
Содержание верного ответа и указания по оцениванию	Баллы
Правильный ответ должен содержать следующие <u>элементы</u> : 1) <u>указание материка</u> : А; 2) <u>подписи океанов на карте</u> : Индийский, Тихий	
Правильно указан материк, подписаны два океана	2
Правильно указан материк, подписан только один океан	1
Правильно указан только материк, ни одно название океана не подписано / не подписано правильно. ИЛИ Материк не указан / указан неправильно независимо от наличия/отсутствия подписи океанов. ИЛИ Ответ неправильный	0
<i>Максимальный балл</i>	2

2

2.1. Найдите на карте точку 1 с координатами 19° ю. ш. 45° в. д.
Поставьте на карте точку 2 с координатами 43° с. ш. 45° в. д.

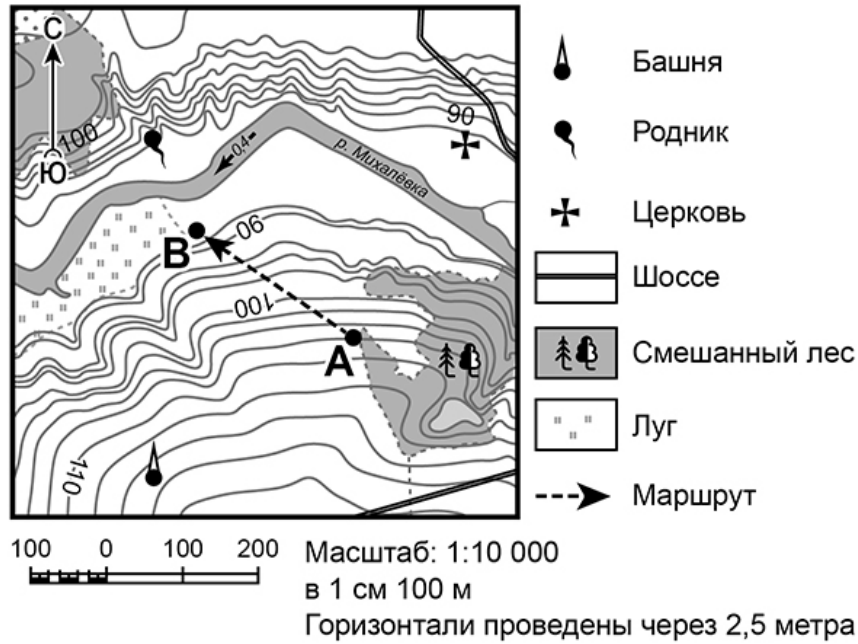
В каком направлении от точки 1 расположена точка 2?

- 1) северном
- 2) южном
- 3) западном
- 4) восточном



Содержание верного ответа, критерии и указания по оцениванию	Баллы
Правильный ответ должен содержать следующие элементы: 1) <u>отметка точки</u> на карте (<i>допускается погрешность $\pm 1^\circ$</i>); 2) <u>указание направления</u> : 1	
Правильно отмечена точка на карте и указано направление	2
Правильно отмечена точка на карте; направление не указано / указано неправильно	1
Точка на карте не отмечена / отмечена неправильно независимо от указания направления. ИЛИ Ответ неправильный	0
<i>Максимальный балл</i>	2

3



3.1. На каком берегу реки Михалёвки находится церковь?
В каком направлении от церкви расположен родник?

Содержание верного ответа и указания по оцениванию	Баллы
Правильный ответ должен содержать <u>ответы на два вопроса</u> : 1) на правом берегу; 2) в западном направлении / на запад	
Правильно даны ответы на два вопроса	2
Правильно дан ответ только на один любой вопрос	1
Ответы на вопросы не даны / даны неправильно	0
<i>Максимальный балл</i>	2

3.3. Какой из изображённых на фотографиях объектов может быть сооружён на участке, по которому проходит маршрут А–В? Укажите в ответе букву, которой обозначен этот объект.

Какая особенность участка, по которому проходит маршрут А–В, определила Ваш выбор?

- 1) близость к реке
- 2) ровная поверхность
- 3) достаточный уклон
- 4) отдалённость от населённого пункта



А – футбольное поле



Б – санный спуск



В – пляж

Содержание верного ответа и указания по оцениванию	Баллы
Правильный ответ должен содержать следующие <u>элементы</u> : 1) <u>указание объекта</u> : Б 2) <u>указание особенности участка</u> : 3	
Правильно указаны объект и особенность участка	2
Правильно указан только объект; особенность участка не указана / указана неправильно	1
Объект указан неправильно независимо от указания особенности участка. ИЛИ Ответ неправильный	0
<i>Максимальный балл</i>	2

4

4.2. Настя живёт в городе Санкт-Петербурге. Что она делает в указанное Вами время? Используйте для ответа приведённый режим дня школьника.

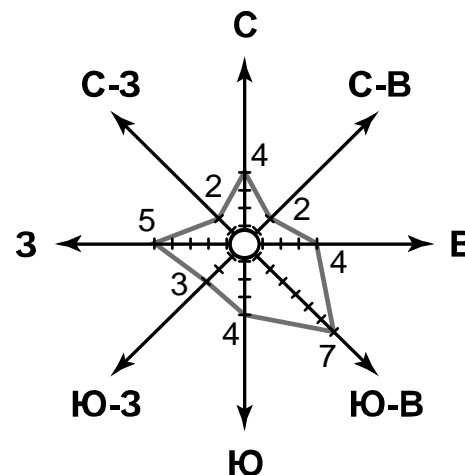
Что в это же время делает её сверстница Катя, которая живёт в Якутске, если она соблюдает тот же режим дня, что и Настя?

РЕЖИМ ДНЯ ШКОЛЬНИКА	
7.00	<i>Подъём</i>
7.05 – 7.20	<i>Утренняя зарядка</i>
7.20 – 7.30	<i>Гигиенические процедуры</i>
7.30 – 8.00	<i>Завтрак</i>
8.00 – 8.15	<i>Дорога в школу</i>
8.30 – 13.10	<i>Занятия в школе</i>
13.10 – 13.30	<i>Дорога домой</i>
13.45 – 14.15	<i>Обед</i>
14.15 – 16.15	<i>Занятия в кружках/секциях</i>
16.30 – 16.45	<i>Полдник</i>
16.45 – 18.15	<i>Выполнение домашних заданий</i>
18.15 – 19.15	<i>Прогулка на свежем воздухе</i>
19.30 – 20.00	<i>Ужин</i>
20.00 – 21.30	<i>Свободное время (чтение книг, просмотр телепередач, настольные игры)</i>
21.30 – 22.00	<i>Гигиенические процедуры и подготовка ко сну</i>
22.00 – 7.00	<i>Ночной сон</i>

Содержание верного ответа и указания по оцениванию	Баллы
Правильный ответ должен содержать <u>ответы на два вопроса</u> : 1) Настя выполняет домашние задания; 2) Катя спит	
Правильно даны ответы на два вопроса	2
Правильно дан ответ только на один любой вопрос	1
Ответы на вопросы не даны / даны неправильно	0
<i>Максимальный балл</i>	2

6

На метеорологической станции города N в январе были проведены наблюдения за направлением ветра. По результатам наблюдений метеорологи построили розу ветров. Рассмотрите розу ветров и ответьте на вопросы.



6.1. Какой ветер чаще всего дул в январе?
В каком направлении дует этот ветер?

Содержание верного ответа и указания по оцениванию	Баллы
Правильный ответ должен содержать <u>ответы на два вопроса</u> : 1) юго-восточный ветер; 2) в северо-западном направлении / на северо-запад	
Правильно даны ответы на два вопроса	2
Правильно дан ответ только на один любой вопрос	1
Ответы на вопросы не даны / даны неправильно	0
<i>Максимальный балл</i>	2

6.3. Андрей в течение дня наблюдал за погодой и описал её в дневнике наблюдений. Прочитайте это описание и отобразите его с помощью условных обозначений так, как на представленных выше рисунках.

Сегодня целый день было ясно, а к вечеру выпала обильная роса. Дул слабый юго-западный ветер. Температура воздуха днём была около 22 градусов тепла, а влажность – 50 процентов.

Содержание верного ответа и указания по оцениванию	Баллы					
Правильный ответ должен содержать <u>заполненную таблицу</u> с изображением условных знаков элементов погоды: <table border="1" style="display: inline-table; vertical-align: middle;"> <tr> <td></td> <td></td> <td></td> <td>+22 °C</td> <td>50%</td> </tr> </table>				+22 °C	50%	
			+22 °C	50%		
Таблица заполнена правильно	2					
В таблице допущена одна ошибка / один из условных знаков не указан	1					
В таблице допущены две и более ошибки / не указаны два и более условных знака. ИЛИ Ответ неправильный	0					
<i>Максимальный балл</i>	2					

8

Рассмотрите фотографию с изображением опасного явления природы. Запишите его название.

В какой части географической оболочки Земли зарождается это явление?

- 1) литосфере
- 2) гидросфере
- 3) биосфере
- 4) атмосфере



Содержание верного ответа и указания по оцениванию	Баллы
Правильный ответ должен содержать следующие <u>элементы</u> : 1) <u>указание явления природы</u> : смерч/торнадо; 2) <u>ответ на вопрос</u> : 4	
Правильно указано явление природы и дан ответ на вопрос	2
Правильно указано только явление природы, ответ на вопрос не дан / дан неправильно	1
Явление природы указано неправильно / не указано независимо от ответа на вопрос. ИЛИ Ответ неправильный	0
<i>Максимальный балл</i>	2

9

Используя приведённую ниже таблицу, выполните задания.

Численность и состав населения

№	Страна	Численность населения, млн человек	Состав населения, %	
			городское	сельское
1	Австралия	25	88	12
2	Греция	11	80	20
3	Египет	95	43	57
4	Франция	65	80	20

9.2. В какой стране более половины населения проживает в сельской местности? Запишите в ответе название страны.

В каких двух странах доля городского населения одинакова? Запишите в ответе названия стран.

Содержание верного ответа и указания по оцениванию	Баллы
Правильный ответ должен содержать <u>ответы на два вопроса</u> : 1) в Египте; 2) в Греции и во Франции	
Правильно даны ответы на два вопроса	2
Правильно дан ответ на любой один вопрос	1
Ответы на вопросы не даны / даны неправильно	0
<i>Максимальный балл</i>	2

9.3. В какой стране, из указанных в таблице, сделана представленная фотография?
Запишите в ответе название страны.

Какой уникальный объект, созданный живыми организмами, расположен вблизи восточного побережья указанной Вами страны?

- 1) Марианская впадина
- 2) остров Пасхи
- 3) Большой Барьерный риф
- 4) Драконовы горы



Содержание верного ответа и указания по оцениванию	Баллы
Правильный ответ должен содержать <u>два элемента</u> : 1) <u>указание страны</u> : Австралия / Австралийский Союз; 2) <u>ответ на вопрос</u> : 3	
Правильно указано название страны и дан ответ на вопрос	2
Правильно указано только название страны, ответ на вопрос не дан / дан неправильно	1
Название страны не указано / указано неправильно независимо от ответа на вопрос. ИЛИ Ответ неправильный	0
<i>Максимальный балл</i>	2

Система оценивания выполнения всей работы

Максимальный первичный балл за выполнение работы – 33.

Рекомендации по переводу первичных баллов в отметки по пятибалльной шкале

Отметка по пятибалльной шкале	«2»	«3»	«4»	«5»
Первичные баллы	0–9	10–20	21–28	29–33